

Яка частина зафарбована?

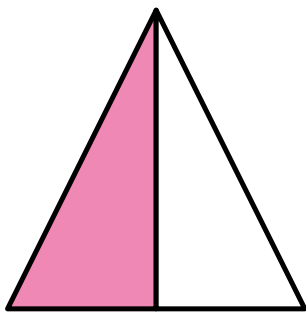
Додайте чисельник, щоб показати, яка частина фігури зафарбована. Перша фігура подається як приклад.

3

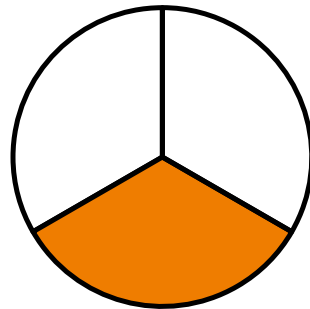
Чисельник: позначає кількість частин у порівнянні до цілого

4

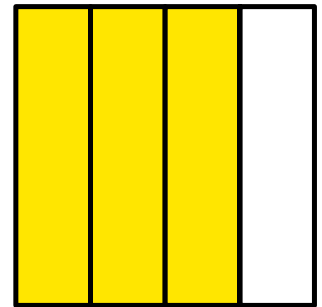
Знаменник: позначає кількість частин в цілому



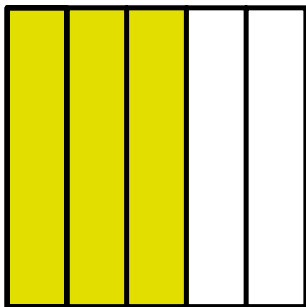
$\frac{1}{2}$




$\frac{1}{3}$



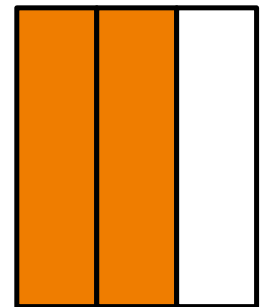
$\frac{3}{4}$



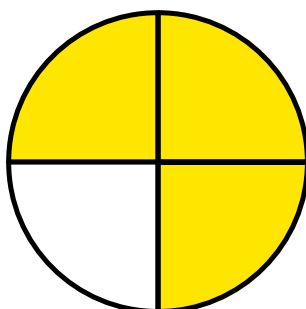
$\frac{3}{5}$



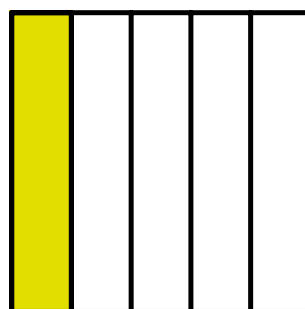
$\frac{5}{6}$




$\frac{2}{3}$



$\frac{3}{4}$



$\frac{1}{5}$



$\frac{3}{8}$